



<https://www.facebook.com/groups/277791212707127/>

TÜRKÇE

Berkay yeni aldığı köpeğini dışarıda gezdiriyordu. Köpek birden havlamaya başladı. Berkay köpeğin acıktığını anladı. Hemen köpeğin yiyeceğini verdi ve yola devam ettiler. Yolda Ufuk ile karşılaştılar. Ufuk köpeği çok sevdi. Ona Demir adını verdi. Akşam olunca Berkay eve döndü. Berkay evde koltuğun üzerinde Demir'i kucağına alarak sevdi. Demir'i dışarıda kulübesine götürerek yatırdı.

Aşağıdaki ilk beş soruyu , yukarıdaki metne göre cevaplayınız.

- 1) Berkay yolda kim ile karşılaştı?
 - A) Arkadaşı Utku ile
 - B) Ufuk ile
 - C) Babası ile
 - D) Demir ile
- 2) Berkay eve ne zaman döndü?
 - A) Sabah
 - B) Öğle
 - C) Akşam
 - D) İkinci
- 3) Berkay köpeğini nasıl sevdi?
 - A) Başını okşayarak sevdi.
 - B) Yerde yuvarlayarak sevdi.
 - C) Kucağına alarak sevdi.
 - D) Kulübesinde sevdi.
- 4) Berkay Ufuk ile nerde karşılaştı?
 - A) Okulda
 - B) Parkta
 - C) Bahçede
 - D) Yolda

5) Berkay' ın köpeği niçin birden havlamaya başladı?

- A) Acıktığı için
- B) Ufuk' u gördüğü için
- C) Kedi gördüğü için
- D) Et gördüğü için

KAVAK ÇINAR ARDIÇ SELVİ

6) Yukarıdaki kelimeleri sözlük sırasına göre sıraladığımızda baştan ikinci sıraya hangi kelimeyi yazarız?

- A) **KAVAK**
- B) **ÇINAR**
- C) **ARDIÇ**
- D) **SELVİ**



Makas Pense Düdük Balta

7) Yukarıda verilen kelimeler sözlük sırasına göre sıralandığında sıralama nasıl olur ?

- A) Makas - Pense - Düdük - Balta
- B) Balta - Düdük - Pense - Makas
- C) Balta - Düdük - Makas - Pense
- D) Düdük - Balta - Makas - Pense



8) Yukarıdaki görselleri ifade eden **zıt anlamlı** sözcük çifti hangisidir?

- A) İyi - Kötü
- B) Şişman - Zayıf
- C) Kalın - Geniş
- D) Şişman - Uzun

3. SINIFLAR DENEME SINAVI

9)



Yandaki kelimelerden hangileri **ek almamıştır**?

- A) Kalemlik ve Çanta
- B) Göz ve Gözlük
- C) Çanta ve Göz
- D) Kalemlik ve Gözlük

10) Aşağıdaki harf gruplarından hangisinin tamamı sesli (ünlü) harflerden oluşmaktadır?

- | | | | |
|------|------|------|------|
| A) e | B) a | C) u | D) a |
| - | - | - | - |
| i | k | ü | e |
| - | - | - | - |
| j | o | v | ü |

11)



Yandaki görsele göre aşağıdaki bilgilerden hangisi yanlıştır?

- A) Sınıfta bir tane dünya modeli vardır.
- B) Sınıfta iki öğrenci kavga ediyor.
- C) Sınıf başkanı bir kız öğrencidir.
- D) Bu sınıf sorunlu bir sınıftır.

12) "Balkondaki kovalar ağzına kadar **dolu**."

Aşağıdaki cümlelerden hangisi yukarıdaki altı çizili kelime ile eşesli bir cümledir?

- A) Bahçedeki bidonlar ağzına kadar dolu.
- B) Dün gece bizim köye dolu yağdı.
- C) Masadaki bardağın içi su dolu.
- D) Çuval patatesle dolu.

13) Esra, " Seni üzdüğüm için " dedi.

Yukarıdaki cümlede boş bırakılan yere hangisi **yazılabilir**?

- A) özür dilerim
- B) teşekkür ederim
- C) tebrik ederim
- D) rica ederim

14)



Yukarıdaki kelimelerin **eş anlamlıları** hangi seçenekte doğru sıralanmıştır?

- A) Kafa - Yanak - İlk bahar
- B) Üst - Surat - Güz
- C) Kafa - Surat - Güz
- D) Üst - Yanak - İlk bahar

15) Aşağıdaki cümlelerin hangisinde çay kelimesi farklı anlamda kullanılmıştır?

- A) Sabah bir bardak çay içtim.
- B) Misafire çay ikram ettim.
- C) Bardaktaki çay soğumuş.
- D) Çaya balık tutmaya gideceğim.

MATEMATİK

1) Aşağıdakilerden hangisinin yüzeyi düzleme örnektir?



A)

B)

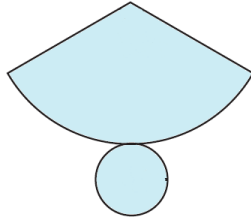

C)

D)



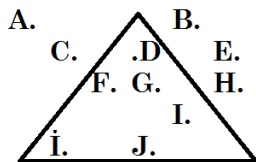
2) Yukarıdaki dünya modeli hangi geometrik cisime örnektir?

A) Koni B) Küre C) Küp D) Piramit



3) Yukarıdaki açınımları verilen geometrik cisimlerin isimleri sırası ile hangisidir?

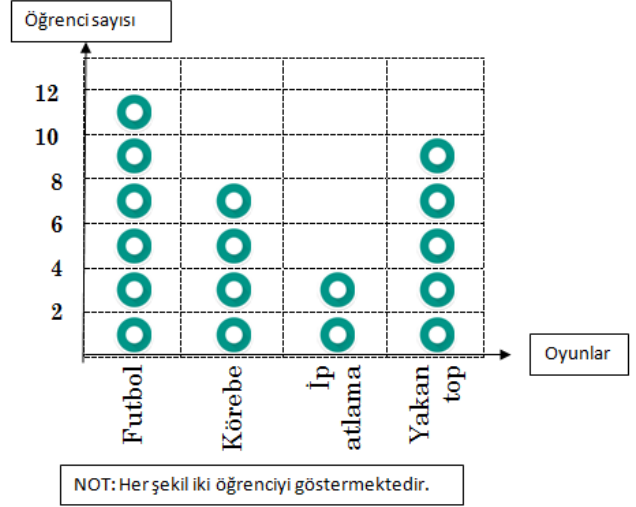
A) Dik dörtgenler prizması - Koni
B) Koni - Küp
C) Silindir - Koni
D) Silindir - Kare prizma



4) Yukarıda çizilen üçgenin içinde kaç tane nokta vardır?

A) 5 B) 6 C) 9 D) 11

5) 3/A sınıfında yapılan "En sevilen oyunlar ." anketinin sonuçları grafikte gösterilmiştir.



Aşağıdakilerden hangisi yukarıdaki grafiğe göre hazırlanmıştır?

A)

Oyunlar	Kişi
Futbol	
Körebe	
İp atlama	
Yakan top	

B)

Oyunlar	Kişi
Futbol	
Körebe	
İp atlama	
Yakan top	

C)

Oyunlar	Kişi
Futbol	
Körebe	
İp atlama	
Yakan top	

D)

Oyunlar	Kişi
Futbol	
Körebe	
İp atlama	
Yakan top	

6) Beşinci sorudaki grafiğe göre 3/A sınıfı mevcudu kaç kişidir?

A) 17 B) 22
C) 26 D) 34



7) Yukarıdaki sayının okunuşu hangisidir?

A) Kırk sekiz
B) Yedi yüz sekiz
C) Yedi yüz kırk sekiz
D) Yedi kırk sekiz

3. SINIFLAR DENEME SINAVI

8)

5 yüzlük	+	6 onluk	+	2 birlik
-------------	---	------------	---	-------------

Yukarıda açılımı verilen sayı hangisidir?

- A) 562 B) 652
C) 526 D) 256

9) " 4 , 2 , 5 " Yandaki rakamları birer defa kullanarak yazılabilecek en büyük 3 basamaklı sayı hangisidir?

- A) 425 B) 452
C) 524 D) 542

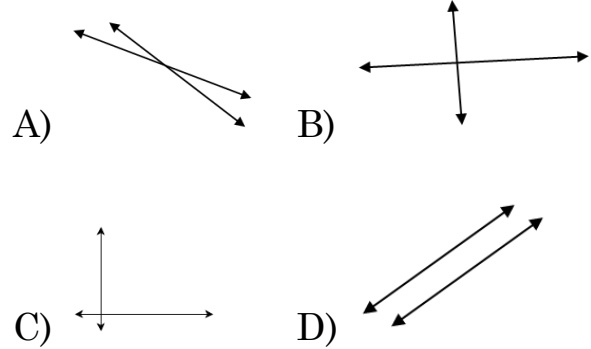
10) " 59 , 303 , 160 , 330 " Hangisi yukarıdaki sayıların doğru sıralanmış halidir?

- A) 59 - 303 - 160 - 330
B) 330 - 303 - 160 - 59
C) 303 - 330 - 160 - 59
D) 330 - 160 - 303 - 59

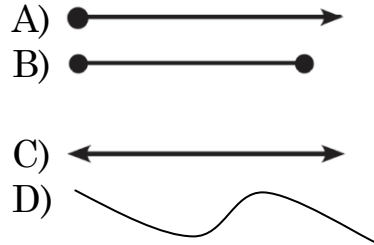
11) Aşağıdaki verilen sayılardan hangisinin tamamı çift sayılardan oluşmuştur?

- A) 184 - 78 B) 79 - 112
C) 93 - 248 D) 387 - 500

12) Aşağıdakilerden hangisi paralel doğrulara örnektir?



13) Aşağıdakilerden hangisi doğru parçası modelidir?



14)

$$V + X = ?$$

Yandaki işlemin sonucu kaçtır?

- A) XIII B) XIV
C) XV D) XVI

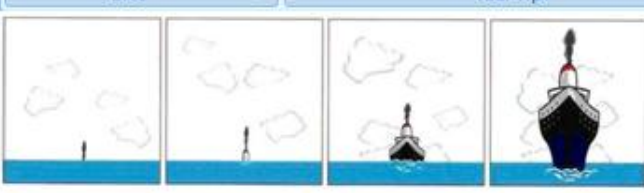
KÜMESTEKİ HAYVANLAR	
HOROZ	
ÖRDEK	
HINDI	

NOT: Her şekil iki hayvanı göstermektedir.

15) Yukarıdaki grafikteki bilgilere göre kümesteki ördek ve hindilerin toplamı kaçtır?

- A) 7 B) 10 C) 6 D) 20

FEN BİLİMLERİ



Yaklaşan bir geminin önce dumanını, sonra bacasını ve en sonra da tamamını görürüz. bu dünyamızın olduğunu ispatlar.

1) Yukarıdaki boşluk hangi ifade ile doldurulabilir?


- A) Düz B) Küp
C) Yuvarlak D) Döndüğünü



2) Yukarıdaki dünya haritasındaki güzergaha göre Magellan bu seyahata niçin çıkmıştı?

- A) Dünya' nın yuvarlak olduğunu ispatlamak için.
B) Tatile gitmek için.
C) Filipinler' e gitmek istediği için.
D) Balık avlamak için.

3) Aşağıdaki resimlerden hangisi dünyamızın şekline örnek olarak gösterilebilir?

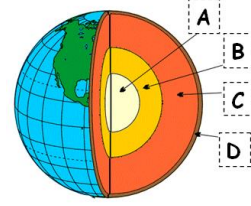


A)

B)

C)

D)



4) Yukarıdaki Dünya' nın yapısını gösteren şekilde A - B - C - D harfleri ile gösterilen yerlere hangi ifadeler gelmesi gerekir?

A-Çekirdek
B-Manto
C-Yer kabuğu
D-Su katmanı

A

A-İç Çekirdek
B-Dış çekirdek
C-Manto
D-Yer kabuğu

B

..?..

A-İç çekirdek
B-Manto
C-Yer kabuğu
D-Taş küre

C

A-Kara katmanı
B-Su katmanı
C-Hava katmanı
D-Atmosfer

D



5) Dünya modeline bakan Ayşe , Dünya modelinde mavi rengin daha çok yer kapladığını söylüyor. Ayşe' nin söylediği bilgi bizi hangi sonuca ulaştırır?

- A) Dünyanın bütün yüzeyi sularla kaplıdır.
B) Karalar denizlerden daha çok alan kaplar.
C) Dünya Güneş' in etrafında dönüyordur.
D) Dünya' nın yüzeyinde sular daha fazla alan kaplar.

3. SINIFLAR DENEME SINAVI



6) Yukarıda görselleri verilen canlıların yaşadıkları katmanlar hangi seçenekte doğru verilmiştir?

	1	2	3	4
A)	Kara	Su	Su	Kara
B)	Kara	Su	Hava	Kara
C)	Hava	Su	Kara	Kara
D)	Kara	Su	Kara	Kara

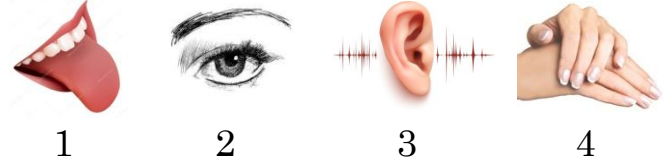
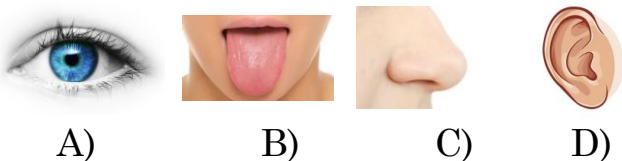
7) "Yeraltı suları, denizler, akarsular, göller ve okyanuslardan oluşan katman hangisidir?" Yukarıda özellikleri verilen katman hangisidir?

- A) Kara Katmanı
- B) Hava Katmanı
- C) Su Katmanı
- D) Manto

"Ahmet elindeki dondurmanın sarı ve beyaz renkte olduğundan bahsetti. Sarı renkli kısmı yaladığında ekşi olduğunu fark etti."



8) Yukarıdaki bilgilere göre Ahmet dondurmanın tadını hangi duyu organıyla anlamıştır?



9) Yukarıdaki tablodaki rakamların yerine hangisini yazmalıyız?

- A) 1-Dil 2-Göz 3-Kulak 4-Dil
- B) 1-Dil 2-Göz 3-Deri 4-Kulak
- C) 1-Dil 2-Göz 3-Kulak 4-Deri
- D) 1-Deri 2-Göz 3-Dil 4-Kulak

10)

1 - Ne olduğunu bilmediğimiz maddeleri koklamamalıyız.

2 - Dişlerimizi fırçalarken dilimizi de temizlemeliyiz.

3 - Tozlu ortamlarda oyun oynamamalıyız.

Yukarıdaki bilgilerden hangisi veya hangileri burun sağlığımızın korunması için yapılması gerekmektedir?

- A) 2 ve 3
- B) Yalnız 1
- C) Yalnız 1
- D) 1 ve 3


Melis, mutfaktan gelen sese yöneldiğinde annesini gördü. Mutfaktan gelen nefis kokuyu içine çekti ve fırından yeni çıkmış kurabiyenin tadına baktı. Annesine "Ellerine sağlık" dedi.

11) Yukarıda anlatılan olayda sırasıyla hangi duyu organları kullanılmıştır?

- A) Kulak - Göz - Burun - Dil
- B) Kulak - Burun - Göz - Dil
- C) Göz - Kulak - Burun - Dil
- D) Kulak - Göz - Burun - Deri

3. SINIFLAR DENEME SINAVI

12) Aşağıdakilerden hangisi farklı bir hareket yapmaktadır.



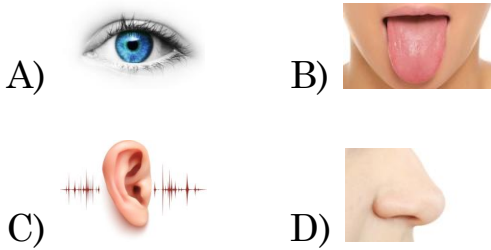
13) "Bu gün hava çok soğuk eldivenlerimi giyeyim."

Yukarıdaki cümleyi kuran kişi havanın soğukluğunu hangi duyu organıyla anlamıştır?

- A) Göz B) Deri
C) Burun D) Dil

İşitme duyu organıdır.
Sesleri işitir, onun sayesinde
müzik dinler, telefonda
konuşuruz.

14) Yukarıda bahsedilen duyu organı hangisidir?



Mehmet, pastanedeki kurabiyelerin kokusunu hangi duyu organıyla anlar?



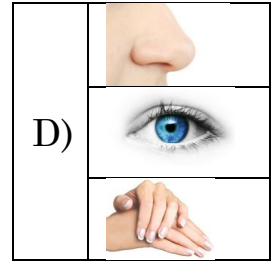
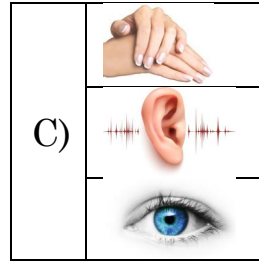
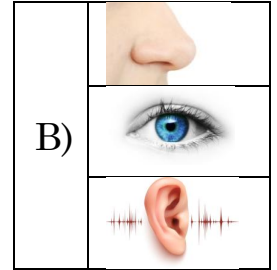
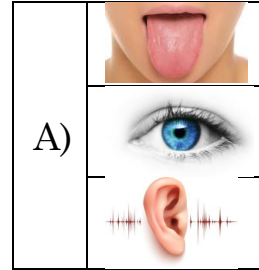
Ahmet' in çevresindeki araçları ve ağaçları görmesini sağlayan duyu organı hangisidir?



Ali, hızla geçen arabanın kornasını hangi duyu organı ile duyar?



15) Yukarıdaki tablo hangi resimlerle tamamlanmalıdır?



HAYAT BİLGİSİ



1) Yukarıdaki özelliklerden kaç tanesi arkadaşlarımızda olmasını istediğimiz özelliklerdendir?

- A) 4 B) 3
C) 2 D) 1

			
Balık	Yumurta	Cips ve kola	Süt, bal
1	2	3	4

2) Sağlıklı beslenmek için yukarıdakilerden hangilerini tüketmek gereklidir?

- A) 1 ve 2 B) 1 , 2 ve 3
C) 1 , 2 ve 4 D) 1 , 2 , 3 ve 4

Ahmet , paylaşımcı bir öğrencidir. Bu nedenle arkadaş seçerken arkadaşlarında da bu özelliğin olmasına dikkat ediyor.





3) Ahmet aşağıdakilerden hangi özelliğe sahip biriyle arkadaşlık kurabilir?


- A) Yalan söyleyen B) Bencil
C) İyimser D) Yanlı

4) Bir oyunda ebeysi seçmek için aşağıdakilerden hangisini yapmak daha uygun olur?

- A) Oylama yapmak
B) Güçlü olanı seçmek
C) Cezalı olanı seçmek
D) Çalışkan olanı seçmek

5) Aşağıdaki öğrencilerden hangisinin davranışı doğru değildir?

- A)  Merdivenlerden inerken koşmadan iniyorum.
B)  Sıramın üstüne araba resmi çiziyorum.
C)  Yerlere çöp atmıyorum.
D)  Sınıfta söz almadan konuşmuyorum.

- 6)  Doktor Mustafa : Eğer çocuklarımız hasta ise onları okula göndermeyiniz.

Doktor Mustafa hasta olan çocukları neden okula göndermeyin demiştir?

- A) Çocuklar oynasın diye
B) Çocuklar televizyon izlesin diye
C) Diğer çocuklara hastalık bulaştırmasınlar diye
D) Çocuklar bisiklet kullansınlar diye

3. SINIFLAR DENEME SINAVI



AHMET :

Sıra arkadaşım Yusuf , uzun saçlı ve saçları siyah renktir. Gözleri mavi renkli. Beyaz tenli ve orta boylu bir arkadaşımıdır.

7)

Ahmet arkadaşının hangi özelliklerinden bahsetmiştir?

- A) Zihinsel özelliklerinden
- B) Ailevi özelliklerinden
- C) Çevresel özelliklerinden
- D) Fiziksel özelliklerinden



8) Yukarıdaki resimde Emine' nin hangi özel günü kutlanmaktadır?

- A) Doğum günü
- B) Yılbaşı kutlaması
- C) Okula başlama kutlaması
- D) Çocuk bayramı

9) Ferhat öğretmen sınıf başkanını seçerken hangi uygulamayı yaparsa **demokratik davranmış olur?**

- A) En çalışkanı başkan yaparsa
- B) Oylama yaparsa
- C) En güçlüyü başkan yaparsa
- D) Erkekleri başkan yaparsa

10) "Babası Rasim' e bisiklet almış." Rasim' in yüz ifadesi hangisidir?

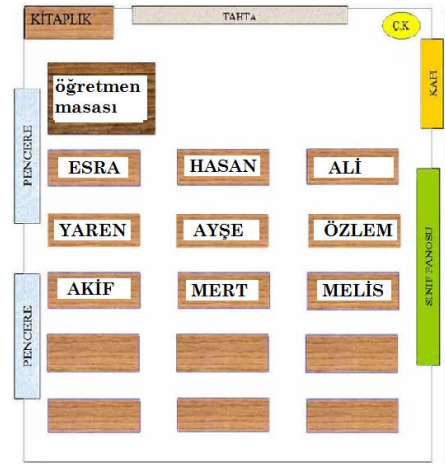
- A)
- B)
- C)
- D)

11) Etkili bir konuşma yapmak isteyen birisi aşağıdakilerden hangisini **yapmamalıdır?**

- A) Nezaket sözcükleri kullanmalı
- B) Alaycı konuşmalı
- C) Dinleyenlerin yüzüne bakmalı
- D) Uygun bir ses tonu kullanmalı

12) Aşağıdaki öğrencilerden hangisi kişisel bakımı hakkında bilgi **vermemektedir?**

- A) Her sabah uyanınca elimi ve yüzümü yıkarım.
- B) Top oynarken ayakkabım yırtıldı.
- C) Yemeklerden sonra mutlaka dişlerimi fırçalarım.
- D) Haftada en az iki kere banyo yaparım.



13) Yukarıdaki sınıf krokisine göre öğretmen masasının bulunduğu tarafın birinci sırasında kim oturmaktadır?

- A) Hasan
- B) Ali
- C) Yaren
- D) Esra

3. SINIFLAR DENEME SINAVI



- 14) "Arkadaşlarıyla yarış yapan Yasin , yarışta birinci olamadı." Bu durumda Yasin' in hangi davranışı yapması doğru olur?
- A) Yarışı kazanamadığı için ağlaması.
B) Yarışı kazanan arkadaşına küsmesi.
C) Yarışı kazanan arkadaşını tebrik etmesi.
D) Yarışı kazanamadığı için sinirlenmesi.





Okulumun tarihini araştırıyorum. Kimlerden bilgi alabilirim acaba?

- 15) Yasemin' e bu konu hakkında aşağıdakilerden hangisi yardımcı **olamaz**?

- A) Okul müdürü
B) Kardeşi
C) Babası
D) Okulun internet adresi


İNGİLİZCE

- 1)  Yanda kaç tane kitap vardır?
- A) **eleven** B) **Twelve**
C) **fourteen** D) **fifteen**



- 2) Yukarıdaki aileden işaretli olan kimdir?

- A) Father B) Brother
C) Mother D) Aunt



3)

- Yukarıdaki aileden işaretli olan kimdir?

- A) Father B) Brother
C) Mother D) Uncle



4)

- Yukarıdaki arabanın üzerindeki sayı kaçtır?

- A) **eighteen** B) **nineteen**
C) **sixteen** D) **seventeen**

5) 11 12 ... 14 15

Yandaki sayı dizisinde noktalı yere yazılacak sayının yazılışı hangisi olmalıdır?

- A) **fourteen** B) **eleven**
C) **thirteen** D) **fifteen**

6) $6 + 8 = ?$

Yandaki işlemin sonucu kaçtır?

- A) **fourteen** B) **eleven**
C) **thirteen** D) **fifteen**



Yukarıdaki meyve ne renktir?

- A) **blue** B) **Yellow**
C) **RED** D) **Green**

www.egitimhane.com

<https://www.facebook.com/groups/277791212707127/>



8) Yukarıdaki resimde işaretli olan kimdir?

- A) **father**
B) **uncle**
C) **grandmother**
D) **grandfather**



9) Yukarıdaki resimde işaretli olan kimdir?

- A) **father**
B) **uncle**
C) **grandmother**
D) **grandfather**

10)



Yandaki ne demek istiyor?

- A) **GO** B) **STOP**
C) **Wait** D) **Goodbye**